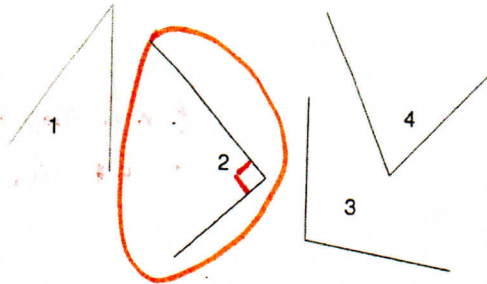
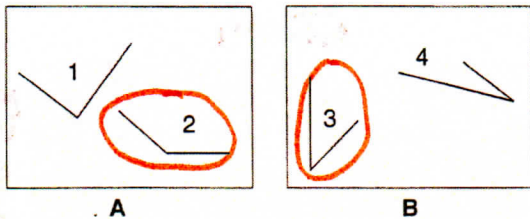


Objectif: retrouver les trois types d'angles.

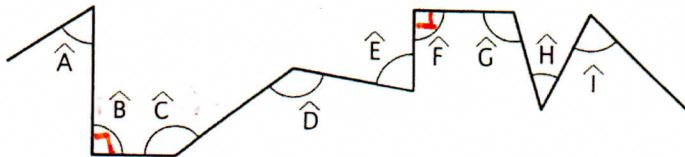
1. Entoure un angle droit.



2. Entoure, dans chaque couple, l'angle le plus ouvert.

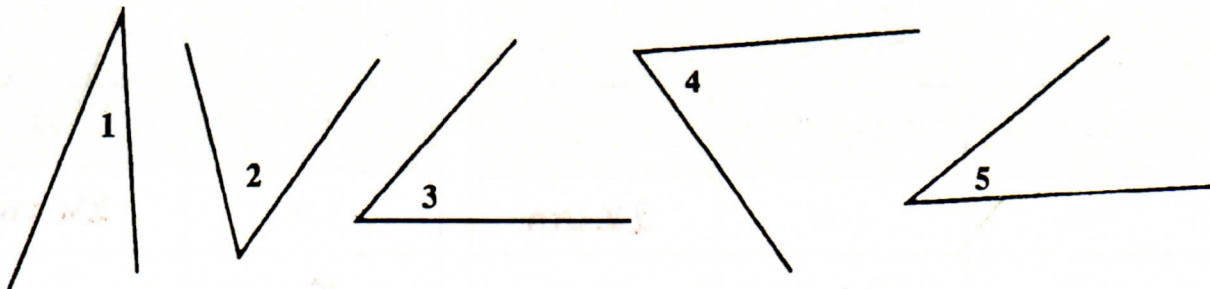


3. Complète le tableau en te servant d'une équerre.



Angle...	\hat{A}	\hat{B}	\hat{C}	\hat{D}	\hat{E}	\hat{F}	\hat{G}	\hat{H}	\hat{I}
aigu	X				X			X	X
obtus			X	X			X		
droit		X				X			

4. Classe ces angles du moins ouvert au plus ouvert.



1 < 5 < 3 < 2 < 4

(Difficile à faire sans calque ou rapporteur)