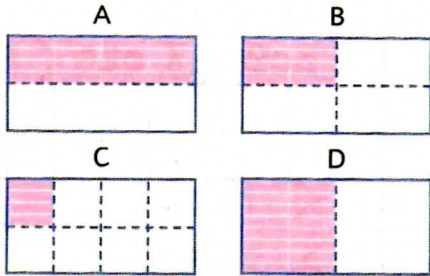


Objectif: écrire un nombre sous forme de fraction.

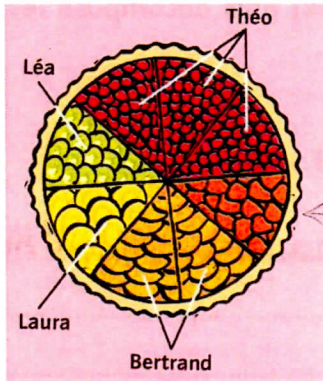
1. Écris la fraction représentée par la partie colorée.



A = $\frac{1}{2}$
C = $\frac{1}{8}$

B = $\frac{1}{4}$
D = $\frac{1}{2}$

2. Maman a fait un gâteau. Indique ce que chacun a mangé par une fraction.

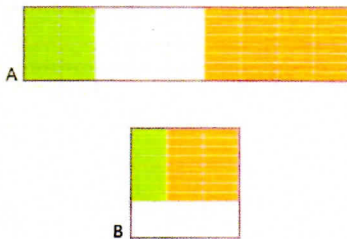


Théo = $\frac{1}{8}$
Laura = $\frac{2}{8}$

Léa = $\frac{1}{8}$
Bertrand = $\frac{4}{8}$

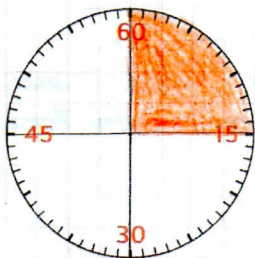
Il reste $\frac{1}{8}$

3. Indique la partie non colorée sous forme d'écriture fractionnaire.

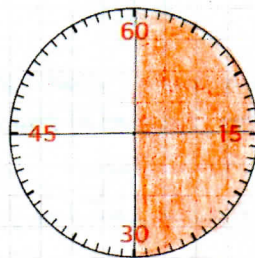


A = $\frac{6}{9}$ ou $\frac{3}{3}$ ou $\frac{1}{3}$
B = $\frac{3}{3}$ ou $\frac{1}{1}$

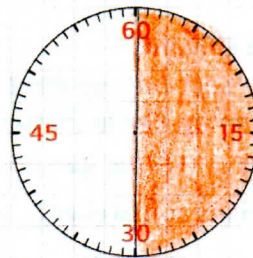
4. Colorie la fraction demandée.




$\frac{1}{4}$



$\frac{2}{4}$



$\frac{1}{2}$



$\frac{2}{2}$