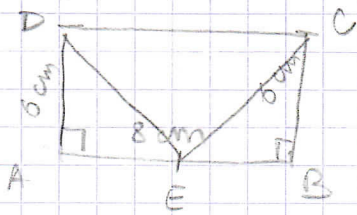
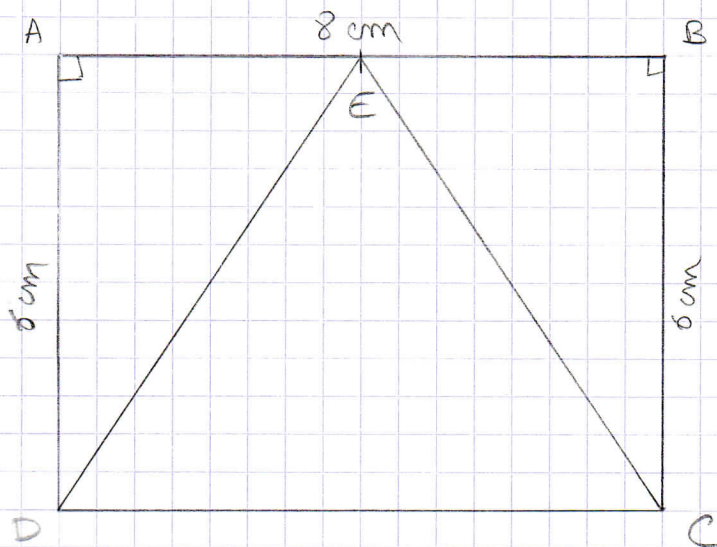
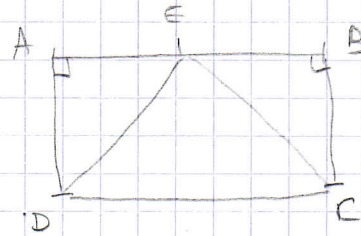


Géométrie - livre niveau 1 - page 7 "les programmes de construction - exercice 3.

Je fais d'abord un schéma à main levée pour voir la place que prendra la construction.



ou



Géométrie - livre niveau 1 - page 13 "Les quadrilatères" exercice 2.

