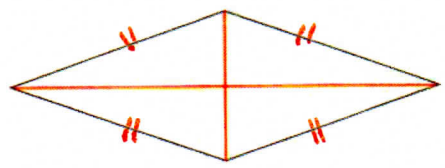



Les quadrilatères

Objectif: reconnaître et construire des quadrilatères.

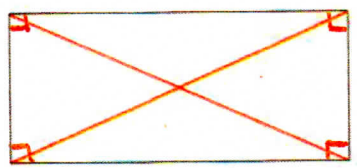
1. Retrouve de quel quadrilatère il s'agit:



losange



carré



rectangle

J'ai 4 angles droits et mes diagonales sont perpendiculaires.

Je suis le carré

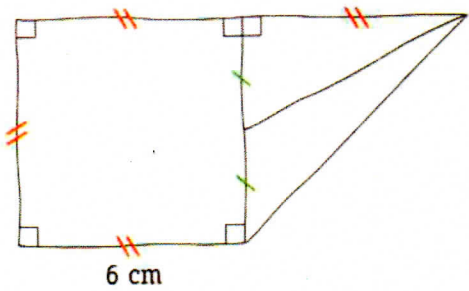
J'ai 4 angles droits et mes diagonales ne sont pas perpendiculaires.

Je suis le rectangle

J'ai 4 côtés égaux et mes diagonales n'ont pas la même longueur.

Je suis le losange

2. Cette figure est tracée à main levée. Reproduis-la sur une feuille en utilisant la règle et l'équerre.

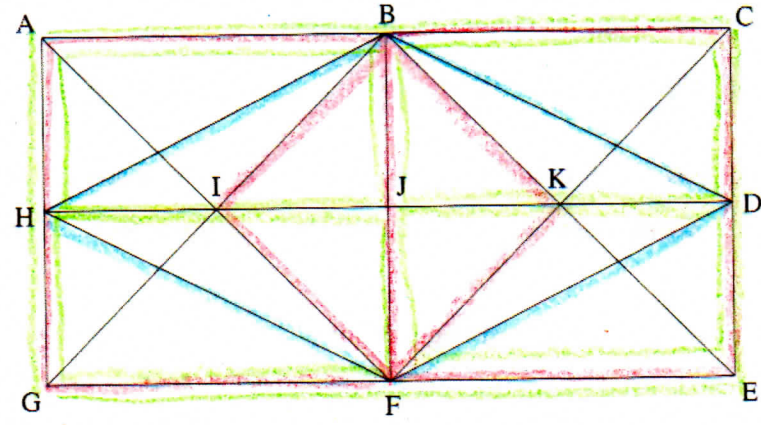


6 cm

3. Avec les crayons de couleur, repasse en rouge 3 carrés, en vert 5 rectangles, en bleu 1 losange.

carrés :
BKFI
ABFG
BCEF

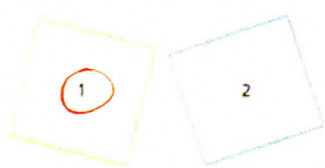
losange :
BDFH



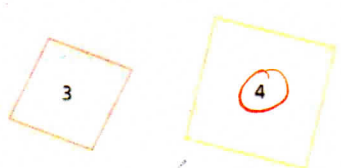
rectangles :
ACEG
ABJH
BCDJ
HJFG
JDEF

4. Entoure les figures qui sont des carrés.

A



B



① n'a pas ses côtés de même longueur

④ n'a pas d'angles droits