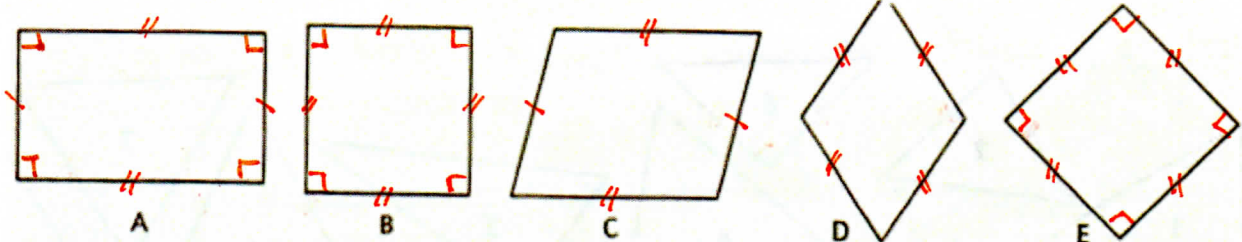


Les parallélogrammes

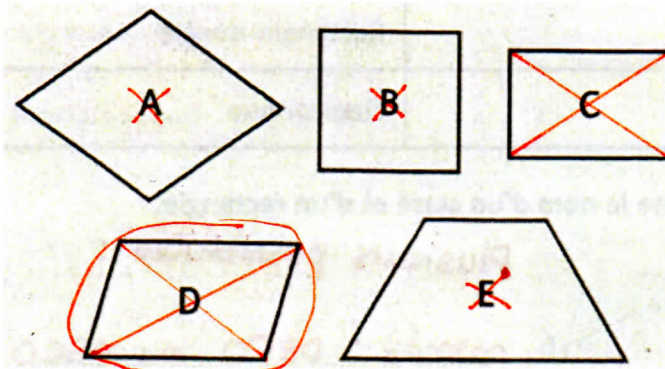
Objectif: reconnaître les parallélogrammes.

1. Observe les figures suivantes puis remplis le tableau.



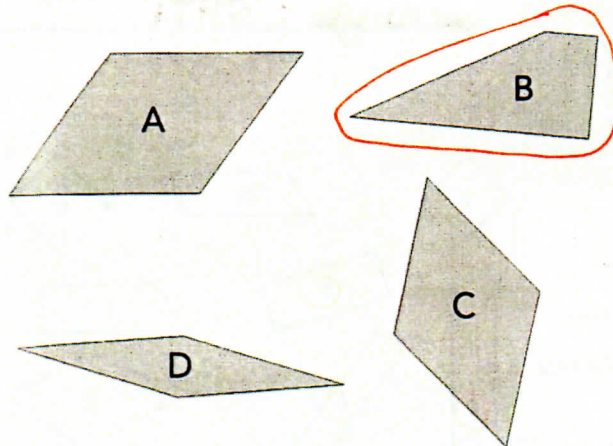
	Côtés opposés parallèles	4 côtés de même longueur	4 angles droits	Nom
A	X		X	rectangle
B	✓	✓	✓	carre
C	✓			parallélogramme
D	✓	✓		losange
E	✓	✓	✓	carre

2. Je suis un parallélogramme. J'ai deux côtés opposés qui mesurent 15 mm. Mes diagonales ne sont pas de longueurs égales. Qui suis-je? Entoure la bonne figure.



En n'est pas un parallélogramme car il n'a que 2 côtés parallèles.
 A et C n'ont pas de côtés de 15 mm.
 e a des diagonales de même longueur.
 Il reste D.

3. Entoure l'intrus et justifie ta réponse.



A, C et D sont tous de la famille des parallélogrammes (car leurs côtés opposés sont parallèles).